


Dragi učenici,


Vaši zadaci iz informatike, za četvrtak 20.01.2022. su:

1. Udžbenik, stranice 44. i 45, zadaci 1., 2., 3., 4. i 5.
2. Radna bilježnica, stranica 26., zadaci 1. i 2.

Zadaci nisu nimalo laki, pokušajte ih riješiti pa ćemo slijedeći put zajednički provjeriti rješenja.

### Mozgalica 4



**1.**  je s prijateljima otišao na jezero. Na jezeru je prvi dan izrastao jedan lopoč, drugi su dan izrasla dva lopoča, treći dan četiri, i tako je svaki dan izraslo dva puta više lopoča nego dan prije. Za dva tjedna je cijelo jezero bilo popunjeno lopočima. Za koliko je dana pola jezera bilo popunjeno lopočima?

**2.** Nastavite niz. Zaokružite točno rješenje.

▲	▲	▲	?
▲	▲	▲	▲

**3.** Nastavite niz. Zaokružite točno rješenje.


◆	◆	◆	?
◆	◆	◆	◆

**4.** Dopunite niz. Zaokružite točno rješenje.

		?	

**5.** Zaokružite zelenom bojom oblik koji odgovara mjestu s jednim upitnikom te crvenom bojom oblik koji odgovara mjestu s dva upitnika.

	?			??	

 Promišljanjem i otkrivanjem pravila dolazimo do jasnog, očitog i logičnog rješenja.

### Mozgalica 4

**1.** Pronađi dio koji nedostaje.

			?	
1	2	3	4	5

**2.** Uz svaki broj napiši koji lik treba biti u poljima označenim tim brojevima.

1	_____	6	_____
2	_____	7	_____
3	_____	8	_____
4	_____	9	_____
5	_____	10	_____

					1	2			
					3	4			
			5	6	7				
				8	9	10			

Srdačan pozdrav,  
Učitelj Darko