

6.11.2021. RAZRED;3.a(raspored za ponedjeljak,A-turnus)

HRVATSKI JEZIK-str.60,61

ANINO UČENJE, Marija Krmpotić

**Razmisli:**

*Što sve tijekom dana moraš obaviti? Stigneš li ispuniti sve svoje obaveze? Koliko vremena dnevno ti oduzimaju izvanškolske i izvannastavne aktivnosti? Koliko u prosjeku trebaš vremena za učenje i pisanje domaće zadaće? Stigneš li se družiti s prijateljima onoliko koliko bi želio/željela?*

Poslušaj ( rubrika [SLUŠAONICA](#) ) ili pročitaj ( Zlatna vrata 3, 60. stranica ) što se dogodilo djevojčici Ani.

**Odgovori usmeno:**

*Kako ti se svidjela ova pripovijetka? Jesi li nekada bio/bila u sličnoj situaciji? O čemu pripovijetka govori? Tko je glavni lik? Koje još likove upoznajemo? Zašto je Ana tužna? Što mama misli o tome? Kako se Ana ponaša, prihvaća li mamin savjet? Osjećaš li se i ti pokatkad kao Ana? Što misliš, hoće li Ana na ovakav način riješiti problem?*

Unesi pravilan redoslijed riječi da bi rečenice bile točne.

<https://wordwall.net/hr/resource/6078795>

*Prepiši u pisanku:*

<p>Anino učenje</p> <p>Marija Krmpotić</p> <p>Pripovijetka je priča o stvarnom događaju.</p> <p>Tema: Ana je shvatila da zabava i druženje dolaze nakon obaveza i učenja</p> <p>Likovi: Ana, Anina mama, prijateljica Ena</p> <p>Vrijeme radnje: jedno poslijepodne nakon dolaska s nastave</p> <p>Mjesto radnje: Anin dom</p>
--

Pročitaj i pridruži događaje dijelu priče kojem pripadaju.

<https://wordwall.net/play/783/917/709>

**Prouči** umnu mapu u udžbeniku na 32 stranici. Saznaj kako si možeš olakšati učenje. Priseti se koje smo od navedenih primjera već koristili u radu.



Završi priču o Ani ( udžbenik, 61. stranica, zadatak STVARAM ).

**Stvaram**

- Završi priču o Ani.

Ana je ipak naučila učiti brže i lakše. Napiši dva savjeta koja su je potaknula da to i ostvari.

---



---



---



---

Riješi radnu bilježnicu na str.32.

## MATEMATIKA-Zbrajanje i oduzimanje -ponavljanje( 2 sata)

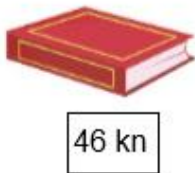
**Promotri i samostalno riješi** u bilježnicu sljedeće zadatke.

Imaš 289 kn i potrošio/potrošila si 75 kn.

Koliko ti je ostalo stotica, desetica i jedinica?



1. Ivana je imala 158 kn. Kupila je knjigu za 46 kn. Koliko joj je novca ostalo nakon kupnje?



Izračunaj: \_\_\_\_\_


Odgovori: \_\_\_\_\_

2. Toni je imao 375 kn. Kupio je slušalice za 53 kn. Koliko mu je novca ostalo?

Prikaži pomoću novčanica, izračunaj i odgovori.


Izračunaj: \_\_\_\_\_

Odgovori: \_\_\_\_\_



3. Prikaži pomoću novčanica i izračunaj razliku.

$579 - 52 = \underline{\hspace{2cm}}$




$687 - 44 = \underline{\hspace{2cm}}$



$794 - 63 = \underline{\hspace{2cm}}$



$485 - 32 = \underline{\hspace{2cm}}$



Riješi zbirku zadataka, str. 28 i 29.