

4.11.2021. RAZRED:3.a

HRVATSKI JEZIK-2 SATA

Zvijezda nijemog filma – Charlie Chaplin (obavijesni tekst)-udžbenik, str.50-53

<https://view.genial.ly/5f7da6d1588fa70d13ffa7f3/presentation-zvijezda-nijemog-filma-charlie-chaplin>

MEDIJSKA KULTURA: Charlie Chaplin, Mališan – nijemi film

Pogledaj film Mališan.

<https://youtu.be/LQE0c1Zugx8>

Plan ploče prepisi u pisanku.

Mališan

Charlie Chaplin

Igrani film iz 1921.godine (komedija/drama)

Trajanje: 68 minuta

Crno-bijeli nijemi film: u prvim filmovima nije bilo zvuka (nijemi film), a filmske projekcije pratila je glazba izvan filma (glazbenik ispred filmskog platna pratio je film na instrumentu); nije bilo boje na filmu (crno-bijeli film);

Režija, glazba, producent: Charlie Chaplin

Glavni likovi: Skitnica i dječak John – siromašni, snalažljivi, spretni, brižni jedan prema drugome, sretni, domišljati, uredni...

Zamoli ukućana ili prijatelja/prijateljicu da s tobom odradi sljedeći zadatak.

Pokušajte nešto izreći jedan drugom, na sličan način kao Skitnica, bez riječi, samo mimikom i pantomimom.

Odgлумite u paru scenu kada glavni likovi peru zube, češkanje glave, razmišljanje, pranje. Scenu prikazuju tako da jedan glumi, a drugi ga prati zvukovima/šumovima koji prate radnju.

Radna bilježnica, str.11

TJELESNI



Preskakivanje duge vijače

Pripremi: vijaču/konop/uže i manju loptu

Zagrij svoje tijelo izvodeći neke od pripremnih vježbi koje smo radili u školi.

Zamoli ukućane da ti pomognu pri izvođenju prve i druge vježbe.

PRETRČAVANJE ISPOD VIJAČE

Dvije osobe neka vitlaju vijaču/konop/uže, a ti pokušaj protrčati ispod.

Pretrčavati trebaš u onom trenutku kada je vijača u položaju prema gore.

DODAVANJE I HVATANJE LOPTE U MJESTU

Dodavajte i hvatajte loptu u paru nastojeći da imate što više dodavanja, a da lopta ne padne.

INFORMATIKA


Draži učenici,

Vaš zadatak iz informatike, za četvrtak 4.11.2021., je riješiti nekoliko zadataka iz radne bilježnice.


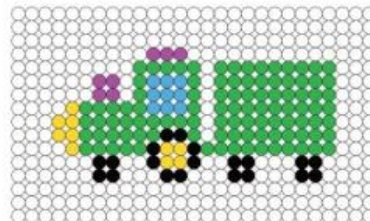
1. Stranica 14. – 1. b) zadatak – pokušajte biti što precizniji, da vam boje ne prelaze iz kvadratića u kvadratiće s drugom bojom. S ovim zadatkom imate dosta posla, samo polako i uzmite si pauzu svakih 10 minuta da vas ruke ne zaboje.
2. Stranica 15. – 2. zadatak – ovo je samo za onih nekoliko koji to nisu stigli riješiti na satu, većina vas je to napravila na satu, neki su dobili i ocijene iz ovog zadatka.
3. Stranica 16. – 3. i 4. zadatak. Slične zadatke smo rješavali na satu, vjerujem da vam ovo neće biti teško.

Srdačan pozdrav,

Učitelj Darko



2. Precrtaj istu sliku u prazna polja ispod.



15 >>

- 3) A) Koliko je stvari na slici? _____
 B) Koja stvar ne pripada s ostalima? _____



- 4) Pažljivo promotri slike.
 Koje brojeve prikazuju oblici na slikama kako bi jednakosti sa slika bile
 tačne? Matematički prikaži vješenja.